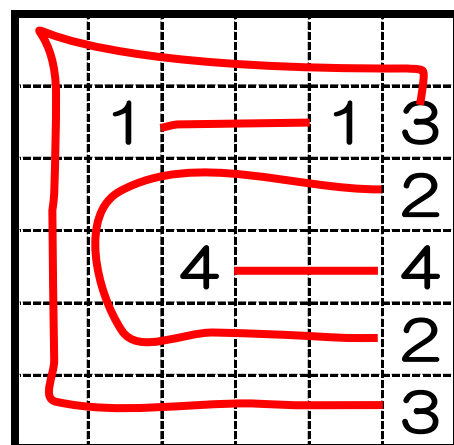
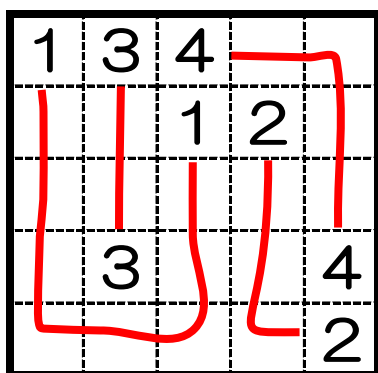
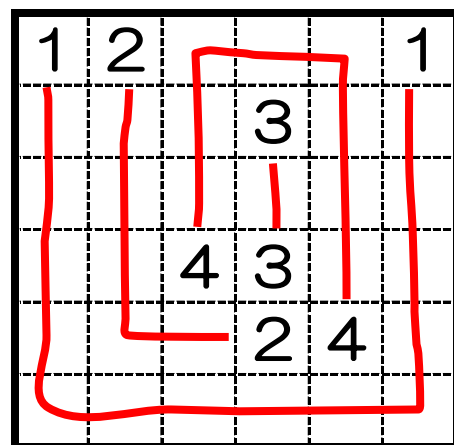
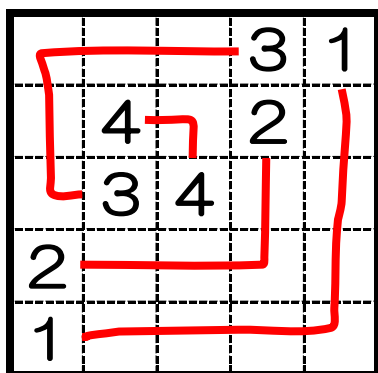


校長先生からの挑戦状⑦ I

- ① 同じ数字どうしを線でつなげます。
 ② 線はタテ・ヨコに引き、マスの中央を通ります。
 ③ 線は1マスに1本だけ通過できます。



校長先生からの挑戦状⑦ II

- ① 同じ数字どうしを線でつなげます。
 ② 線はタテ・ヨコに引き、マスの中央を通ります。
 ③ 線は1マスに1本だけ通過できます。

