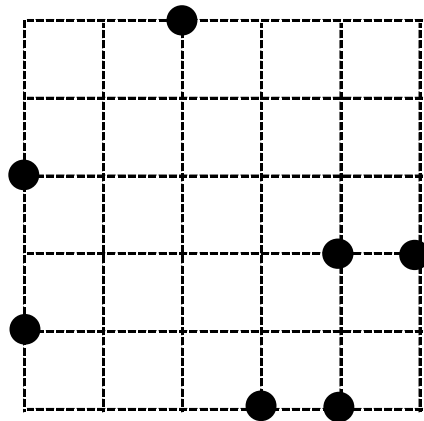


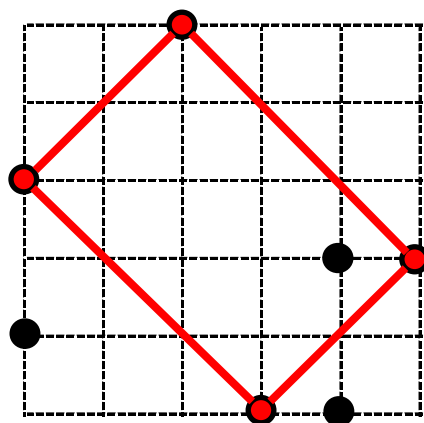
# 校長先生からの挑戦状⑭ 例題

マス目上の黒点から4つを選び、線で結んで、指定された図形を作ります。

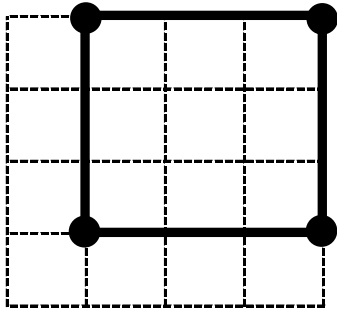
【長方形】



【長方形】

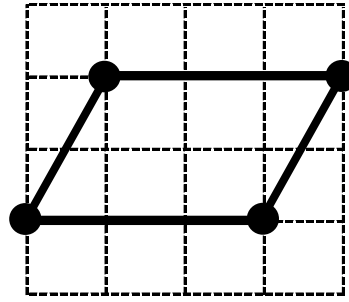


【正方形】



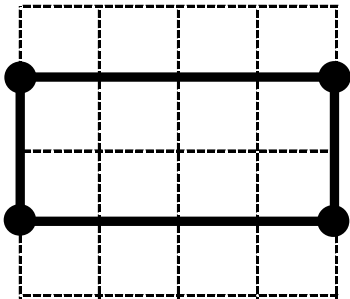
★ 4つの角がすべて等しく、  
4つの辺がすべて等しい

【平行四辺形】



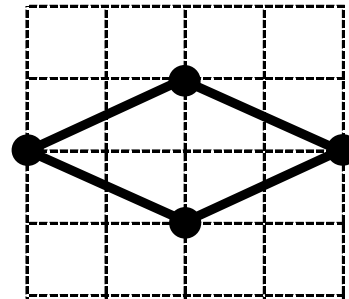
★ 2組の辺がそれぞれ平行

【長方形】



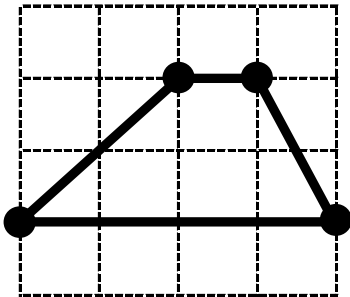
★ 4つの角がすべて等しい

【ひし形】



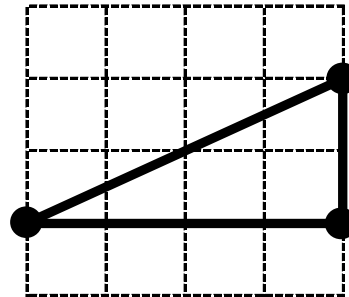
★ 4つの辺がすべて等しい

【台形】



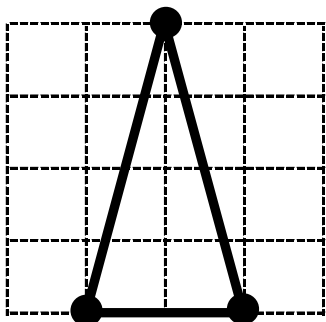
★ 1組の辺が平行

【直角三角形】



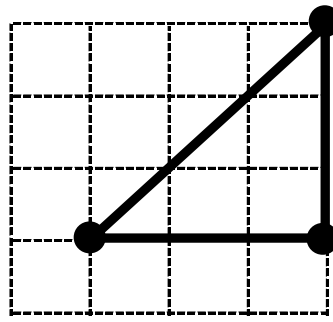
★ 1つの角が直角

【二等辺三角形】



★ 2つの辺が等しい

【直角二等辺三角形】



★ 2つの辺が等しく、  
1つの角が直角